

Arbeitsauftrag Klasse 6c Mathematik

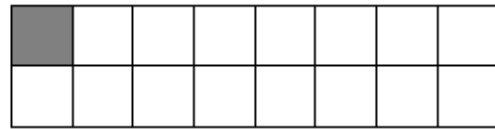
- LB S. 39 bis zum Merksatz lesen
- Merksatz im Heft notieren
- Beispiele + Bemerkungen ansehen/lesen
- LB. S. 39, Nr. 2 , LB. S. 40, Nr.3 und 4 im Heft lösen
- Folgende Aufgaben bearbeiten:

1. Bestimme den Teil der Fläche, der grau eingefärbt ist.

a)




b)

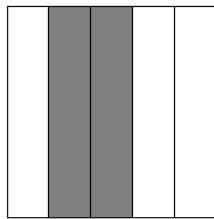


2. Bestimme den Teil der Fläche, der grau eingefärbt ist.


a)



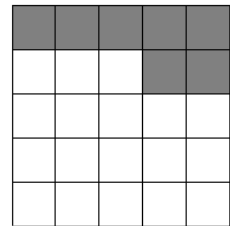
b)



c)

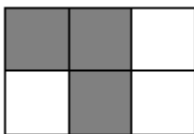


d)

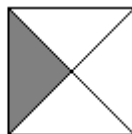


3. Bestimme den Teil der Fläche, der grau eingefärbt ist.


a)



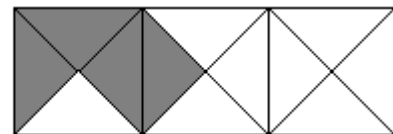
b)



c)




d)



4. Bestimme den Teil der Fläche, der grau eingefärbt ist.

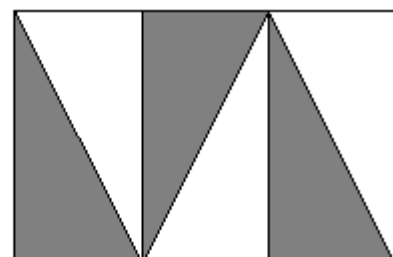
a)



b)

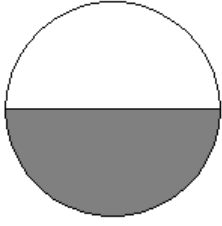


c)

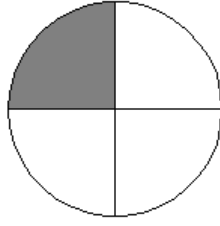


5. Bestimme den Teil der Fläche, der grau eingefärbt ist.

a)



b)



c)

